

Systemes 2x2

Objectif

Résoudre un système de deux équations (linéaires) à deux inconnues (syst.2x2) et interpréter graphiquement

Rappel : droites et équations de droites

Géométrie

une droite d du plan

d est oblique

d est verticale

d est horiz.

le point $P(x;y)$ appartient à la droite

Algèbre

une équation du type
 $ax+by+c = 0$

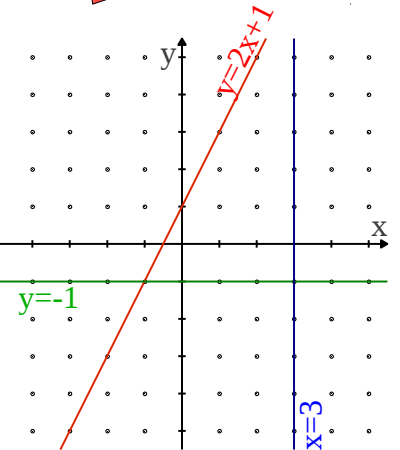
$y = px+q$
où p : pente et q : ord. à l'or.

$x = k$

$y = m$

les coordonnées $(x;y)$ de P sont solution de l'équation de

exemples



Résoudre un système 2x2

Résoudre un système 2x2, c'est **algébriquement** déterminer tous les couples $(x;y)$ du plan qui vérifient simultanément les deux équations ; **géométriquement** c'est déterminer les éventuels points d'intersections des deux droites

Cas 1

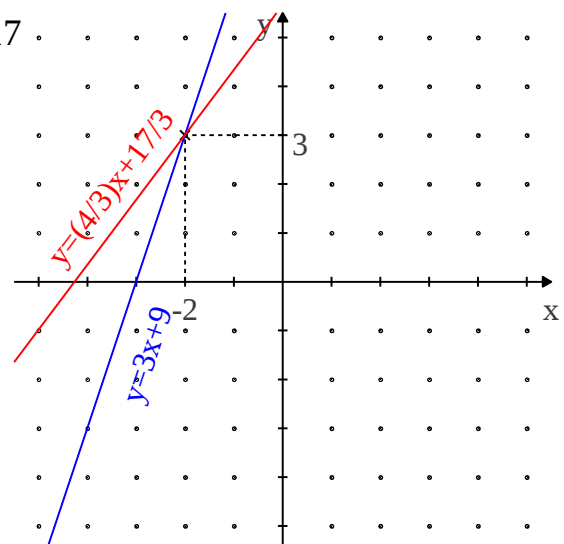
Les deux droites sont sécantes, il y a un unique point d'intersection ; le système admet une unique solution

exemple

Résoudre le système 2x2 suivant :

$$\begin{cases} \textcircled{1} & -3x + y = 9 \\ \textcircled{2} & 4x - 3y = -17 \end{cases}$$

Interprétation géométrique



Résolution algébrique

$$\begin{array}{r} 3 \cdot \textcircled{1} \\ \textcircled{2} \\ + \\ \hline \end{array} \begin{cases} -9x + 3y = 27 \\ 4x - 3y = -17 \end{cases}$$

$$-5x = 10$$

$$x = -2$$

dans 1 : $-3 \cdot (-2) + y = 9$

$$y = 3$$

$$S = \{(-2; 3)\}$$

Cas 2

Les deux droites sont parallèles, il n'y a pas de point d'intersection ;
le système n'a pas de solution

exemple

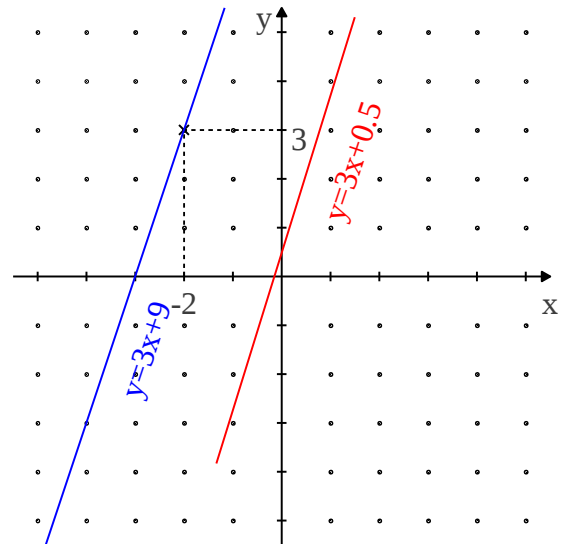
Résoudre le système 2x2 suivant :

$$\begin{cases} \textcircled{1} -3x + y = 9 \\ \textcircled{2} 6x - 2y = -1 \end{cases}$$

Interprétation géométrique

Résolution algébrique

$$\begin{array}{r} 2 \cdot \textcircled{1} \left\{ \begin{array}{l} -6x + 2y = 18 \\ \textcircled{2} 6x - 2y = -1 \end{array} \right. \\ + \\ \hline 0x + 0y = 17 \\ 0 = 17 \\ S = \emptyset \end{array}$$



Cas 3

Les deux droites sont confondues ;
l'ensemble solution et celui formé par tous les points de cette droite

exemple

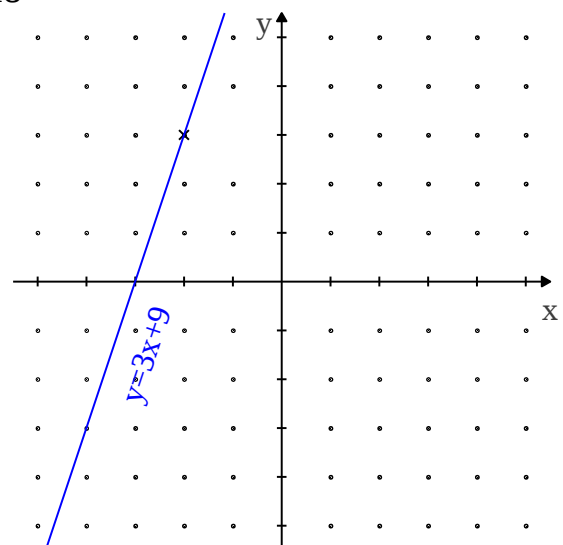
Résoudre le système 2x2 suivant :

$$\begin{cases} \textcircled{1} -3x + y = 9 \\ \textcircled{2} 6x - 2y = -18 \end{cases}$$

Interprétation géométrique

Résolution algébrique

$$\begin{array}{r} 2 \cdot \textcircled{1} \left\{ \begin{array}{l} -6x + 2y = 18 \\ \textcircled{2} 6x - 2y = -18 \end{array} \right. \\ + \\ \hline 0x + 0y = 0 \\ 0 = 0 \\ S = \text{tous les points de } d \\ S = \{(x; y) \mid -3x + y = 9\} \end{array}$$



Méthodes de résolution

1 : Substitution	Résoudre le système 2x2 suivant : $\begin{cases} -3x + y = 9 \\ 4x - 3y = -17 \end{cases}$
$y = 9 + 3x$	On exprime y en fonction de x à l'aide de la première équation.
$4x - 3(9 + 3x) = -17$	On remplace (substitue) y par $9 + 3x$ dans la deuxième équation.
$\begin{aligned} 4x - 27 - 9x &= -17 \\ -5x &= 10 \\ x &= -2 \end{aligned}$	On résout l'équation à une inconnue ainsi obtenue pour trouver la valeur de x.
$\begin{aligned} y &= 9 + 3 \cdot (-2) \\ y &= 9 - 6 \\ y &= 3 \end{aligned}$	On remplace x par -2 dans l'équation trouvée à la première étape pour trouver la valeur de y.
Conclusion : $S = \{(-2; 3)\}$	

2 : Comparaison	Résoudre le système 2x2 suivant : $\begin{cases} y = 3x + 9 \\ y = 2x + 6 \end{cases}$
	On observe que y est exprimé en fonction de x dans les deux équations
$3x + 9 = 2x + 6$	On égalise les deux expressions en x.
$\begin{aligned} 3x + 9 &= 2x + 6 \\ x &= -3 \end{aligned}$	On résout l'équation à une inconnue ainsi obtenue pour trouver la valeur de x.
$\begin{aligned} y &= 3 \cdot (-3) + 9 \\ y &= 0 \end{aligned}$	On remplace x par -3 dans une des deux équations trouvée à la première étape pour trouver la valeur de y.
Conclusion : $S = \{(-3; 0)\}$	

3 : Addition	Résoudre le système 2x2 suivant : $\begin{cases} 5x - 4y = 8 \\ 2x + 5y = 1 \end{cases}$
Déterminer une des inconnues	
$\begin{cases} 5 \cdot (5x - 4y) = 5 \cdot 8 \\ 4 \cdot (2x + 5y) = 4 \cdot 1 \end{cases}$	On multiplie les deux membres de la première équation par 5 et ceux de la seconde par 4 .
$\begin{cases} 25x - 20y = 40 \\ 8x + 20y = 4 \end{cases}$	On obtient ainsi des coefficients opposés devant y dans les deux équations.
$33x = 44$	On ajoute membre à membre les deux équations du système ainsi obtenu pour éliminer y.
$x = 4/3$	On résout cette équation à une inconnue pour trouver la valeur de x.
Déterminer l'autre inconnue	
$2(4/3) + 5y = 1$	On choisit une des deux équations de départ et on substitue la valeur de l'inconnue déjà trouvée
$x = -1/3$	On obtient ainsi la valeur de la seconde inconnue
Conclusion : $S = \left\{ \left(\frac{4}{3}; -\frac{1}{3} \right) \right\}$	